




















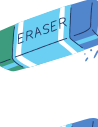






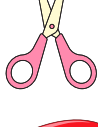





















Matemáticas de regreso a la escuela

Escribe las soluciones en los recuadros.

 $+$  $= 12$
 $+$  $= 8$
 $+$  $= 5$
 $+$  $=$  $+$  $= 10$
 $+$  $= 8$
 $+$  $= 9$
 $+$  $=$  $+$  $= 14$
 $+$  $= 10$
 $+$  $= 7$
 $+$  $=$  $+$  $= 8$
 $+$  $= 9$
 $+$  $= 11$
 $+$  $=$  $+$  $= 12$
 $+$  $= 9$
 $+$  $= 10$
 $+$  $=$  $+$  $= 6$
 $+$  $= 8$
 $+$  $= 7$
 $+$  $=$